

# 2014학년도 3월 고3 전국연합학력평가 정답 및 해설

## • 수학 영역 •

### 수학 B형 정답

1	①	2	②	3	④	4	①	5	②
6	⑤	7	②	8	④	9	⑤	10	③
11	④	12	③	13	①	14	④	15	①
16	⑤	17	⑤	18	③	19	②	20	③
21	④	22	12	23	90	24	6	25	160
26	35	27	61	28	37	29	200	30	25

### 해 설

1. [출제의도] 행렬의 연산을 이해하고 행렬의 뺄셈을 계산한다.

$$\begin{aligned} B &= \begin{pmatrix} 5 & 2 \\ 3 & -1 \end{pmatrix} - 2A \\ &= \begin{pmatrix} 5 & 2 \\ 3 & -1 \end{pmatrix} - 2 \begin{pmatrix} 2 & 0 \\ 0 & -1 \end{pmatrix} \\ &= \begin{pmatrix} 5 & 2 \\ 3 & -1 \end{pmatrix} - \begin{pmatrix} 4 & 0 \\ 0 & -2 \end{pmatrix} \\ &= \begin{pmatrix} 1 & 2 \\ 3 & 1 \end{pmatrix} \end{aligned}$$

2. [출제의도] 로그의 성질을 이해하고 식의 값을 계산한다.

$$\begin{aligned} &\log_2 4 \times \log_4 2^{-2} \\ &= \log_2 2^2 \times \log_4 4^{-1} \\ &= 2 \times (-1) = -2 \\ \text{[다른 풀이]} \\ &\log_2 4 \times \log_4 2^{-2} \\ &= \log_2 4 \times (-2 \log_2 2) \\ &= -2 \times \log_2 4 \times \log_2 2 \\ &= -2 \left( \log_2 4 \times \frac{1}{\log_2 4} \right) \\ &= -2 \end{aligned}$$

3. [출제의도] 극한의 성질을 이용하여 극한값을 계산한다.

$$\begin{aligned} &\lim_{x \rightarrow 0} \frac{3x + \tan x}{x} \\ &= \lim_{x \rightarrow 0} \left( \frac{3x}{x} + \frac{\tan x}{x} \right) \\ &= 3 + 1 = 4 \end{aligned}$$

4. [출제의도] 지수함수의 성질을 이용하여 지수부등식의 해를 구한다.

$$\begin{aligned} &\left( 2^x - \frac{1}{4} \right) (2^x - 1) < 0 \\ &\frac{1}{4} < 2^x < 1 \\ &2^{-2} < 2^x < 2^0 \\ &\therefore -2 < x < 0 \end{aligned}$$

따라서 부등식  $\left( 2^x - \frac{1}{4} \right) (2^x - 1) < 0$ 을 만족시키는 정수  $x$ 의 개수는 1이다.

5. [출제의도] 삼각함수의 배각공식을 이용하여 삼각함수의 값을 구한다.

$$\begin{aligned} \tan \theta &= \frac{1}{4} \text{ 이므로} \\ \sec^2 \theta &= 1 + \tan^2 \theta = 1 + \frac{1}{16} = \frac{17}{16} \\ \cos^2 \theta &= \frac{1}{\sec^2 \theta} = \frac{16}{17}, \quad \sin^2 \theta = 1 - \cos^2 \theta = \frac{1}{17} \\ \sin^2 2\theta &= 4 \sin^2 \theta \cos^2 \theta \\ &= 4 \times \frac{1}{17} \times \frac{16}{17} \end{aligned}$$

$$\begin{aligned} &= \left( \frac{8}{17} \right)^2 \\ \tan \theta &= \frac{1}{4} > 0 \text{ 이므로 } \sin \theta \cos \theta > 0 \\ \therefore \sin 2\theta &= \frac{8}{17} \end{aligned}$$

6. [출제의도] 연립일차방정식의 해가 무수히 많을 조건을 이해한다.

$$\begin{pmatrix} 3 \\ 5 \end{pmatrix} \begin{pmatrix} 1 & 2 \end{pmatrix} = \begin{pmatrix} 3 & 6 \\ 5 & 10 \end{pmatrix} \text{ 이므로 주어진 연립일차방정식은}$$

$$\begin{pmatrix} 3 & 6 \\ 5 & 10 \end{pmatrix} \begin{pmatrix} x \\ y \end{pmatrix} = \begin{pmatrix} 6 \\ a \end{pmatrix}$$

행렬  $\begin{pmatrix} 3 & 6 \\ 5 & 10 \end{pmatrix}$ 의 역행렬이 존재하지 않으므로 위의 연립일차방정식이 해를 가지려면

$$\text{연립일차방정식 } \begin{cases} 3x + 6y = 6 \\ 5x + 10y = a \end{cases}$$

$$\text{즉, } \begin{cases} x + 2y = 2 \\ x + 2y = \frac{a}{5} \end{cases} \text{가 무수히 많은 해를 가져야 한다.}$$

$$\begin{aligned} \text{따라서 } 2 &= \frac{a}{5} \text{ 이어야 하므로} \\ a &= 10 \end{aligned}$$

7. [출제의도] 그래프와 행렬의 성질을 이해하여 실생활과 관련된 문제를 해결한다.

그래프의 각 꼭짓점 사이의 연결 관계를 나타내는 행렬에서 각 성분은 0 또는 1이다. 각 행의 성분은 6개이므로 행의 성분으로 0을 4개 포함하는 행은 1을 2개 포함한다. 행의 성분에서 1인 것의 개수는 각 꼭짓점에 연결된 변의 개수와 같으므로 연결된 변의 개수가 2인 꼭짓점의 개수를 찾으면 된다. 따라서 행의 성분으로 0을 4개 포함하는 행의 개수는 2이다.

8. [출제의도] 상용로그의 지표와 가수의 성질을 이해하고 극한값을 구한다.

$$\begin{aligned} 10 \leq x < 100 \text{ 이면 } \log x \text{의 지표는 } 1 \text{ 이고,} \\ 1000 \leq x^2 < 10000 \text{ 이면 } \log x^2 \text{의 지표는 } 3 \text{ 이므로} \\ \lim_{x \rightarrow 100-0} f(x) &= 1 \text{ 이고 } \lim_{x \rightarrow 100-0} f(x^2) = 3 \text{ 이다.} \\ \therefore \lim_{x \rightarrow 100-0} \{ f(x) + f(x^2) \} \\ &= \lim_{x \rightarrow 100-0} f(x) + \lim_{x \rightarrow 100-0} f(x^2) \\ &= 1 + 3 \\ &= 4 \end{aligned}$$

9. [출제의도] 삼각함수의 합성을 이해하고 함수의 최댓값을 구한다.

$$\begin{aligned} f(x) &= 4\sin x + 6\cos^2 \frac{x}{2} + 1 \\ &= 4\sin x + 6 \times \frac{1 + \cos x}{2} + 1 \\ &= 4\sin x + 3\cos x + 4 \\ &= 5 \left( \sin x \times \frac{4}{5} + \cos x \times \frac{3}{5} \right) + 4 \\ &= 5\sin(x + \alpha) + 4 \quad \left( \text{단, } \sin \alpha = \frac{3}{5}, \cos \alpha = \frac{4}{5} \right) \\ 5\sin(x + \alpha) \text{의 최댓값이 } 5 \text{ 이므로 } f(x) \text{의 최댓값은 } 9 \text{ 이다.} \end{aligned}$$

10. [출제의도] 미분법과 중간값의 정리를 이용하여 극값이 존재하는 구간을 구한다.

$$\begin{aligned} \text{미분가능한 함수 } f(x) \text{가 } x=a \text{에서 극값을 가지므로} \\ f'(a) &= 0 \text{ 이어야 한다.} \\ f(x) &= e^{-x}(\ln x - 2) \text{ 이므로} \\ f'(x) &= -e^{-x}(\ln x - 2) + e^{-x} \times \frac{1}{x} \\ &= e^{-x} \left( \frac{1}{x} - \ln x + 2 \right) \end{aligned}$$

모든 실수  $x$ 에 대하여  $e^{-x} > 0$  이므로

$$g(x) = \frac{1}{x} - \ln x + 2 \text{ 라 하면 } g(a) = 0 \text{ 이어야 한다.}$$

$$g'(x) = -\frac{1}{x^2} - \frac{1}{x} = -\frac{1+x}{x^2} < 0 \quad (\because x > 0)$$

$$\begin{aligned} \text{이므로 함수 } g(x) \text{는 } x > 0 \text{에서 연속이고 감소한다.} \\ g(1) &= 1 - \ln 1 + 2 = 3 > 0 \end{aligned}$$

$$g(e) = \frac{1}{e} - \ln e + 2 = \frac{1}{e} + 1 > 0$$

$$g(e^2) = \frac{1}{e^2} - \ln e^2 + 2 = \frac{1}{e^2} > 0$$

$$g(e^3) = \frac{1}{e^3} - \ln e^3 + 2 = \frac{1}{e^3} - 1 < 0$$

그러므로 중간값의 정리에 의하여  $g(c) = 0$ 인 실수  $c$ 가 열린 구간  $(e^2, e^3)$ 에 오직 하나 존재한다. 따라서 함수  $f(x)$ 가  $x = a$ 에서 극값을 가질 때,  $a$ 가 속하는 구간은  $(e^2, e^3)$ 이다.

11. A형 17번과 동일

12. [출제의도] 수열의 극한의 성질을 이용하여 극한값을 구한다.

$$1 + 2 + 2^2 + \dots + 2^{n-1} < a_n < 2^n \text{ 에서}$$

$$\frac{1 \times (2^n - 1)}{2 - 1} < a_n < 2^n$$

$$2^n - 1 < a_n < 2^n$$

$$1 - \frac{1}{2^n} < \frac{a_n}{2^n} < 1$$

$$\lim_{n \rightarrow \infty} \left( 1 - \frac{1}{2^n} \right) = 1, \quad \lim_{n \rightarrow \infty} 1 = 1 \text{ 이므로}$$

$$\lim_{n \rightarrow \infty} \frac{a_n}{2^n} = 1$$

$$\frac{3n-1}{n+1} < \sum_{k=1}^n b_k < \frac{3n+1}{n} \text{ 에서}$$

$$\lim_{n \rightarrow \infty} \frac{3n-1}{n+1} = 3, \quad \lim_{n \rightarrow \infty} \frac{3n+1}{n} = 3 \text{ 이므로}$$

$$\lim_{n \rightarrow \infty} \sum_{k=1}^n b_k = 3$$

$$\therefore \lim_{n \rightarrow \infty} b_n = 0$$

$$\lim_{n \rightarrow \infty} \frac{8^n - 1}{4^{n-1} a_n + 8^{n+1} b_n}$$

$$= \lim_{n \rightarrow \infty} \frac{1 - \frac{1}{8^n}}{\frac{1}{4} \times \frac{a_n}{2^n} + 8 \times b_n}$$

$$= \frac{1 - 0}{\frac{1}{4} \times 1 + 8 \times 0} = 4$$

$$= \frac{1-0}{\frac{1}{4} \times 1 + 8 \times 0} = 4$$

13. [출제의도] 지수함수의 성질을 이용하여 삼각형의 넓이를 구한다.

$$\text{곡선 } y = 2^x \text{이 } y \text{축과 만나는 점은}$$

$$A(0, 1)$$

$$\text{곡선 } y = -2^x + a \text{가 } y \text{축과 만나는 점은}$$

$$B(0, a-1)$$

$$\text{두 곡선 } y = 2^x \text{과 } y = -2^x + a \text{가 만나는 점은}$$

$$2^x = -2^x + a, \quad 2^{x+1} = a$$

$$x = \log_2 a - 1 = \log_2 \frac{a}{2}, \quad y = 2^{\log_2 \frac{a}{2}} = \frac{a}{2}$$

$$C \left( \log_2 \frac{a}{2}, \frac{a}{2} \right)$$

$a = 6$ 일 때,  $B(0, 5)$ ,  $C(\log_2 3, 3)$ 이므로 삼각형  $ACB$ 의 넓이는

$$\frac{1}{2} \times 4 \times \log_2 3 = 2 \log_2 3$$

14. [출제의도] 로그함수의 극한의 성질을 이용하여 극한값을 구한다.

$$A(0, 1), \quad C \left( \log_2 \frac{a}{2}, \frac{a}{2} \right) \text{ 이므로 직선 } AC \text{의 기울기는}$$

$$f(a) = \frac{\frac{a}{2} - 1}{\log_2 \frac{a}{2} - 0} = \frac{\frac{a}{2} - 1}{\log_2 \frac{a}{2}}$$

$B(0, a-1)$ ,  $C(\log_2 \frac{a}{2}, \frac{a}{2})$  이므로 직선 BC의 기울기는

$$g(a) = \frac{\frac{a}{2} - (a-1)}{\log_2 \frac{a}{2} - 0} = -\frac{\frac{a}{2} - 1}{\log_2 \frac{a}{2}}$$

$$\therefore f(a) - g(a) = 2 \times \frac{\frac{a}{2} - 1}{\log_2 \frac{a}{2}}$$

$\frac{a}{2} - 1 = t$  라 하면  $a \rightarrow 2+0$  일 때  $t \rightarrow +0$  이므로

$$\lim_{a \rightarrow 2+0} \{f(a) - g(a)\} = 2 \lim_{t \rightarrow +0} \frac{t}{\log_2(t+1)}$$

$$= 2 \lim_{t \rightarrow +0} \frac{1}{\frac{\log_2(t+1)}{t}}$$

$$= 2 \lim_{t \rightarrow +0} \frac{1}{\log_2(t+1)^{\frac{1}{t}}}$$

$$= 2 \times \frac{1}{\log_2 e} = 2 \ln 2$$

[다른 풀이]

$a \rightarrow 2+0$  이면 점 C는 곡선  $y=2^x$ 을 따라 점 A에 한없이 가까워진다. 따라서 직선 AC의 기울기는 곡선  $y=2^x$  위의 점 A에서의 접선의 기울기에 한없이 가까워진다.

$$y' = 2^x \times \ln 2 \text{ 이므로}$$

$$\lim_{a \rightarrow 2+0} f(a) = 2^0 \times \ln 2 = \ln 2$$

한편, 점 C를 지나고  $x$ 축에 평행한 직선을  $l$ 이라 하면 곡선  $y = -2^x + a$ 와 곡선  $y = 2^x$ 은 항상 직선  $l$ 에 대하여 대칭이다.

따라서 직선 BC와 직선 AC도 항상 직선  $l$ 에 대하여 대칭이다.

$$\lim_{a \rightarrow 2+0} g(a) = -\lim_{a \rightarrow 2+0} f(a) = -\ln 2$$

$$\therefore \lim_{a \rightarrow 2+0} \{f(a) - g(a)\}$$

$$= \lim_{a \rightarrow 2+0} f(a) - \lim_{a \rightarrow 2+0} g(a)$$

$$= \ln 2 - (-\ln 2) = 2 \ln 2$$

### 15. A형 16번과 동일

16. [출제의도] 합성함수의 연속성을 이해하고 문제를 해결한다.

합성함수  $(g \circ f)(x)$ 가 실수 전체의 집합에서 연속이 되려면

$$\lim_{x \rightarrow 1+0} (g \circ f)(x) = \lim_{x \rightarrow 1-0} (g \circ f)(x) = (g \circ f)(1)$$

이어야 한다.

$$\lim_{x \rightarrow 1+0} f(x) = 1^2 - 1 + 2a = 2a \text{ 이고, } g(x) \text{ 는 연속함수이므로}$$

$$\lim_{x \rightarrow 1+0} (g \circ f)(x) = (2a)^2 + a \times 2a + 3 = 6a^2 + 3$$

$$\lim_{x \rightarrow 1+0} f(x) = 3 + a \text{ 이므로}$$

$$\lim_{x \rightarrow 1-0} (g \circ f)(x) = (3+a)^2 + a \times (3+a) + 3 = 2a^2 + 9a + 12$$

$$(g \circ f)(1) = g(f(1)) = g(2a) = 6a^2 + 3$$

따라서  $6a^2 + 3 = 2a^2 + 9a + 12$  이어야 하므로

$$4a^2 - 9a - 9 = 0$$

$$(a-3)(4a+3) = 0$$

$$\therefore a = 3 \text{ 또는 } a = -\frac{3}{4}$$

따라서 구하는 모든 상수  $a$ 의 값의 합은  $\frac{9}{4}$ 이다.

[다른 풀이]

이차함수  $g(x)$ 는 모든 실수에서 연속이고 곡선  $y=g(x)$ 는 직선  $x = -\frac{a}{2}$ 에 대하여 대칭이다.

따라서 함수  $(g \circ f)(x)$ 가 모든 실수  $x$ 에서 연속이 되려면

$$\lim_{x \rightarrow 1+0} f(x) = \lim_{x \rightarrow 1-0} f(x) = f(1) \text{ 또는}$$

$$\lim_{x \rightarrow 1+0} f(x) + \lim_{x \rightarrow 1-0} f(x) = -a \text{ 이어야 한다.}$$

$$1 - 1 + 2a = 3 + a \text{ 에서}$$

$$a = 3$$

$$(1 - 1 + 2a) + (3 + a) = -a \text{ 에서}$$

$$a = -\frac{3}{4}$$

따라서 구하는 모든 상수  $a$ 의 값의 합은

$$3 - \frac{3}{4} = \frac{9}{4}$$

### 17. A형 19번과 동일

18. [출제의도] 무리방정식을 이해하고 함수의 그래프를 이용하여 해를 구한다.

$$f(x) - 1 = \sqrt{g(x)\{f(x) - 2\} + 1} \dots \textcircled{1}$$

$\textcircled{1}$ 의 양변을 각각 제곱하면

$$\{f(x) - 1\}^2 - 2f(x) + 1 = g(x)\{f(x) - 2\} + 1$$

$$f(x)\{f(x) - 2\} - g(x)\{f(x) - 2\} = 0$$

$$\{f(x) - 2\}\{f(x) - g(x)\} = 0$$

$$\therefore f(x) = 2 \text{ 또는 } f(x) = g(x)$$

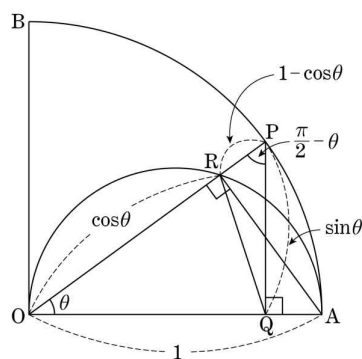
i)  $f(x) = 2$ 를  $\textcircled{1}$ 에 대입하면 (좌변)=(우변)=1

ii)  $f(x) = g(x)$ 를  $\textcircled{1}$ 에 대입하면

$$f(x) - 1 = \sqrt{\{f(x) - 1\}^2} \text{ 이므로 } f(x) \geq 1 \text{ 이어야 한다.}$$

따라서 주어진 무리방정식의 실근은 i)에서 2개, ii)에서 1개이므로 구하는 실근의 개수는 3이다.

19. [출제의도] 도형의 성질과 삼각함수의 극한의 성질을 이용하여 극한값을 구한다.



$$\overline{PR} = \overline{OP} - \overline{OR} = 1 - \cos \theta$$

$$\overline{PQ} = \sin \theta$$

$$\angle QPR = \frac{\pi}{2} - \theta \text{ 이므로}$$

$$S(\theta) = \frac{1}{2} \times (1 - \cos \theta) \times \sin \theta \times \sin \left( \frac{\pi}{2} - \theta \right)$$

$$= \frac{(1 - \cos \theta) \sin \theta \cos \theta}{2}$$

$$\therefore \lim_{\theta \rightarrow +0} \frac{S(\theta)}{\theta^3} = \lim_{\theta \rightarrow +0} \frac{(1 - \cos \theta) \sin \theta \cos \theta}{2\theta^3}$$

$$= \lim_{\theta \rightarrow +0} \frac{\sin^3 \theta \cos \theta}{2\theta^3(1 + \cos \theta)} = \frac{1}{4}$$

[다른 풀이]

(삼각형 PRQ의 넓이)

= (삼각형 POQ의 넓이) - (삼각형 ROQ의 넓이)

이므로

$$S(\theta) = \frac{1}{2} \sin \theta \cos \theta - \frac{1}{2} \cos^2 \theta \sin \theta$$

$$= \frac{1}{2} \sin \theta \cos \theta (1 - \cos \theta)$$

$$\therefore \lim_{\theta \rightarrow +0} \frac{S(\theta)}{\theta^3} = \lim_{\theta \rightarrow +0} \frac{(1 - \cos \theta) \sin \theta \cos \theta}{2\theta^3}$$

$$= \lim_{\theta \rightarrow +0} \frac{\sin^3 \theta \cos \theta}{2\theta^3(1 + \cos \theta)} = \frac{1}{4}$$

### 20. A형 21번과 동일

21. [출제의도] 미분법을 이해하여 조건에 맞는 함수의 그래프를 추측한다.

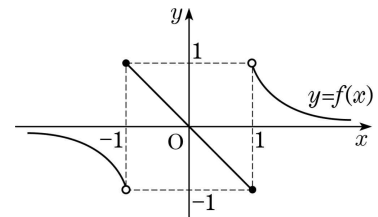
주어진 조건에서 함수  $f(x)$ 의 그래프는 원점에 대하여 대칭이고 원점을 지난다.

또, 함수  $f(x)$ 는  $x \neq -1$ ,  $x \neq 1$ 인 모든  $x$ 에서 연속이고, 구간  $(-\infty, -1)$ ,  $(-1, 1)$ ,  $(1, \infty)$ 에서 각각 감소한다.

ㄱ. 함수  $f(x)$ 의 그래프는 직선  $y=x$ 와 원점에서만 만난다.

ㄴ. (반례) 함수  $f(x) = \begin{cases} -x & (|x| \leq 1) \\ \frac{1}{x} & (|x| > 1) \end{cases}$ 은 주어진 조건

을 만족시키지만  $x$ 축과 원점에서만 만난다.



ㄷ. 함수  $f(x)$ 는 닫힌 구간  $[0, 1]$ 에서 연속이고, 열린 구간  $(0, 1)$ 에서 미분가능하므로 평균값의 정리에 의하여

$$f'(c_1) = \frac{-1-0}{1-0} = -1$$

을 만족시키는 실수  $c_1$ 이 열린 구간  $(0, 1)$ 에 적어도 하나 존재한다.

마찬가지로 함수  $f(x)$ 는 닫힌 구간  $[-1, 0]$ 에서 연속이고, 열린 구간  $(-1, 0)$ 에서 미분가능하므로

$$f'(c_2) = \frac{1-0}{-1-0} = -1$$

을 만족시키는 실수  $c_2$ 가 열린 구간  $(-1, 0)$ 에 적어도 하나 존재한다.

그러므로  $f'(a) = -1$ 을 만족시키는 실수  $a$ 가 적어도 두 개 존재한다.

따라서 옳은 것은 ㄱ, ㄷ이다.

22. [출제의도] 미분법을 이용하여 문제를 해결한다.

$$f'(x) = 8 - \left(-\frac{4}{x^2}\right) = 8 + \frac{4}{x^2} \text{ 이므로}$$

$$f'(1) = 8 + \frac{4}{1} = 12$$

23. [출제의도] 분수방정식의 해를 구한다.

양변에  $x^2 - 1 = (x-1)(x+1)$ 을 곱하면

$$3x - 7 + 2(x+1) = 2(x^2 - 1)$$

$$2x^2 - 5x + 3 = 0$$

$$(x-1)(2x-3) = 0$$

$$x = 1 \text{ 또는 } x = \frac{3}{2}$$

$x = 1$ 은 무연근이고  $x = \frac{3}{2}$ 은 실근이다.

$$\therefore 60\alpha = 60 \times \frac{3}{2} = 90$$

24. [출제의도] 수열의 극한의 성질을 이용하여 극한값을 구한다.

$\frac{\sqrt{9n^2+n}-n}{a_n}$ 의 분모, 분자를 각각  $n$ 으로 나누면

$$\frac{\sqrt{9n^2+n}-n}{n} = \frac{\sqrt{9+\frac{1}{n}}-1}{\frac{a_n}{n}}$$

이때  $\lim_{n \rightarrow \infty} \frac{a_n}{n} = \frac{1}{3}$ 이고  $\lim_{n \rightarrow \infty} \left(\sqrt{9+\frac{1}{n}}-1\right) = 2$ 이므로

$$\lim_{n \rightarrow \infty} \frac{\sqrt{9n^2+n}-n}{a_n}$$

$$= \lim_{n \rightarrow \infty} \frac{\sqrt{9+\frac{1}{n}}-1}{\frac{a_n}{n}}$$

$$= \frac{\lim_{n \rightarrow \infty} \left( \sqrt{9 + \frac{1}{n}} - 1 \right)}{\lim_{n \rightarrow \infty} \frac{a_n}{n}}$$

$$= \frac{2}{\frac{1}{3}} = 6$$

25. A형 26번과 동일

26. [출제의도] 분수방정식과 분수부등식을 이해하고 문제를 해결한다.

(가)에서 집합  $\left\{ x \mid \frac{g(x)}{f(x)} = 0 \right\}$ 의 원소의 개수는 1이

고,  $g(x) = (x-1)(x-3)^2$  이므로

$f(1) = 0$  또는  $f(3) = 0$ 이다.

따라서  $f(x) = (x-a)(x-5)$ 에서

$a=1$  또는  $a=3$

i)  $a=1$ 이면

$$\frac{f(x)}{g(x)} = \frac{(x-1)(x-5)}{(x-1)(x-3)^2} \leq 0$$

$$x-5 \leq 0 \quad (x \neq 1, x \neq 3)$$

$$\therefore x < 1 \text{ 또는 } 1 < x < 3 \text{ 또는 } 3 < x \leq 5$$

이를 만족시키는 자연수  $x$ 는 2, 4, 5이므로 3개가 되어 (나) 조건에 모순이다.

ii)  $a=3$ 이면

$$\frac{f(x)}{g(x)} = \frac{(x-3)(x-5)}{(x-1)(x-3)^2} \leq 0$$

$$(x-1)(x-3)(x-5) \leq 0 \quad (x \neq 1, x \neq 3)$$

$$\therefore x < 1 \text{ 또는 } 3 < x \leq 5$$

이를 만족시키는 자연수  $x$ 는 4, 5이므로 2개가 되어 (나) 조건을 만족시킨다.

i), ii)에서  $a=3$ 이므로

$$f(x) = (x-3)(x-5)$$

$$\therefore f(10) = (10-3)(10-5) = 7 \times 5 = 35$$

27. [출제의도] 삼각형의 닮음비와 삼각함수의 덧셈정리를 이용하여 문제를 해결한다.

점 P가 선분 AB를 4:1로 내분하는 점이므로

$$\overline{PR} = \frac{1}{5} \overline{AC} = \frac{3}{5}, \quad \overline{RC} = \frac{4}{5} \overline{BC} = \frac{4}{5}$$

삼각형 PRC가 직각삼각형이므로

$$\tan \alpha = \frac{\overline{RC}}{\overline{PR}} = \frac{4}{3}$$

점 Q가 선분 AB를 2:3으로 내분하는 점이므로

$$\overline{QS} = \frac{2}{5} \overline{BC} = \frac{2}{5}, \quad \overline{SC} = \frac{3}{5} \overline{AC} = \frac{9}{5}$$

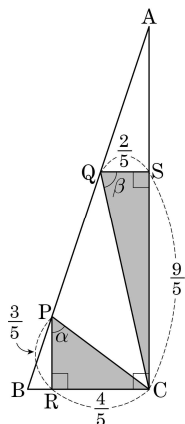
삼각형 QCS가 직각삼각형이므로

$$\tan \beta = \frac{\overline{SC}}{\overline{QS}} = \frac{9}{2}$$

따라서

$$\tan(\beta - \alpha) = \frac{\tan \beta - \tan \alpha}{1 + \tan \beta \tan \alpha} = \frac{\frac{9}{2} - \frac{4}{3}}{1 + \frac{9}{2} \times \frac{4}{3}} = \frac{\frac{27-8}{6}}{\frac{6+36}{6}} = \frac{19}{42}$$

이므로  $p+q = 42+19 = 61$ 이다.



28. [출제의도] 등차수열의 합을 이해하여 첫째항을 구

한다.

첫째항이  $a$ 이고 공차가  $-4$ 인 등차수열  $\{a_n\}$ 의 첫째 항부터 제  $n$ 항까지의 합  $S_n$ 은

$$S_n = \frac{n(2a-4(n-1))}{2} = -2n^2 + (a+2)n$$

모든 자연수  $n$ 에 대하여  $S_n < 200$ 이므로

$$-2n^2 + (a+2)n < 200$$

$$2n^2 + 200 > (a+2)n$$

$$2n + \frac{200}{n} > a+2 \quad \text{①}$$

이때  $n > 0$ 이므로

$$2n + \frac{200}{n} \geq 2\sqrt{2n \times \frac{200}{n}} = 2\sqrt{400} = 40$$

(단, 등호는  $n=10$ 일 때 성립)

따라서 모든 자연수  $n$ 에 대하여 ①이 성립하려면  $a+2 < 40$ 이어야 하므로 자연수  $a$ 의 최댓값은 37이다.

[다른 풀이]

$$S_n = \frac{n(2a-4(n-1))}{2} = -2n^2 + (a+2)n$$

모든 자연수  $n$ 에 대하여  $S_n < 200$ 이므로

$$-2n^2 + (a+2)n < 200$$

$$2n^2 - (a+2)n > -200$$

$$f(n) = 2n^2 - (a+2)n \text{ 이라 하면}$$

$$f(n) = 2\left(n^2 - \frac{a+2}{2}n\right)$$

$$= 2\left\{\left(n - \frac{a+2}{4}\right)^2 - \frac{(a+2)^2}{16}\right\}$$

$$= 2\left(n - \frac{a+2}{4}\right)^2 - \frac{(a+2)^2}{8}$$

이때  $a$ 는 자연수이므로  $f(n)$ 이 최소가 되게 하는  $n$ 은  $\frac{a}{4}, \frac{a+1}{4}, \frac{a+2}{4}, \frac{a+3}{4}$  중의 하나이다. 따라서

모든 자연수  $n$ 에 대하여

$$f(n) > -200 \text{ 이 성립하려면 네 부등식}$$

$$f\left(\frac{a}{4}\right) > -200, \quad f\left(\frac{a+1}{4}\right) > -200,$$

$$f\left(\frac{a+2}{4}\right) > -200, \quad f\left(\frac{a+3}{4}\right) > -200$$

이 모두 성립해야 한다.

$$f\left(\frac{a}{4}\right) = 2 \times \frac{1}{4} - \frac{(a+2)^2}{8} > -200 \text{ 에서}$$

$$(a+2)^2 < 1604 \quad \text{①}$$

$$f\left(\frac{a+1}{4}\right) = 2 \times \frac{1}{16} - \frac{(a+2)^2}{8} > -200 \text{ 에서}$$

$$(a+2)^2 < 1601 \quad \text{②}$$

$$f\left(\frac{a+2}{4}\right) = -\frac{(a+2)^2}{8} > -200 \text{ 에서}$$

$$(a+2)^2 < 1600 \quad \text{③}$$

$$f\left(\frac{a+3}{4}\right) = 2 \times \frac{1}{16} - \frac{(a+2)^2}{8} > -200 \text{ 에서}$$

$$(a+2)^2 < 1601 \quad \text{④}$$

①, ②, ③, ④이 모두 성립하려면  $(a+2)^2 < 1600$ 이어야 한다.

$$\therefore a+2 < 40$$

따라서 자연수  $a$ 의 최댓값은 37이다.

29. [출제의도] 수열의 합과 일반항의 관계와 상용로그의 가수의 성질을 이용하여 문제를 해결한다.

주어진 식의 양변에 상용로그를 취하면

$$\log a_1 + 2\log a_2 + 3\log a_3 + \dots + n\log a_n = n^2 - n$$

$$\therefore \sum_{m=1}^n m\log a_m = n^2 - n$$

따라서

$$n\log a_n = (n^2 - n) - \{(n-1)^2 - (n-1)\}$$

$$= 2n - 2 \quad (n \geq 2)$$

이고,  $\log a_1 = 1^2 - 1 = 0$ 이므로

$$n\log a_n = 2n - 2 \quad (n \geq 1)$$

$$\therefore \log a_n = \frac{1}{n}(2n - 2) = 2 - \frac{2}{n}$$

$n \leq 2$ 이면  $\log a_n$ 의 가수는 0이고

$n \geq 3$ 이면  $\log a_n$ 의 가수는  $1 - \frac{2}{n}$ 이다.

$\log a_k$ 의 가수가 0.99이므로

$$1 - \frac{2}{k} = 0.99$$

$$\frac{2}{k} = \frac{1}{100}$$

$$\therefore k = 200$$

30. [출제의도] 삼각함수의 성질과 매개변수의 미분법을 이용하여 문제를 해결한다.

원점을 지나고 기울기가  $\tan(\sin t)$ 인 직선의 방정식은

$$y = \tan(\sin t)x \quad \text{①}$$

점 P는 원과 직선의 교점이므로

원의 방정식  $x^2 + y^2 = e^{2t}$ 과 연립하면

$$x^2 + \{\tan(\sin t)x\}^2 = e^{2t}$$

$$\{1 + \tan^2(\sin t)\}x^2 = e^{2t}$$

$$\frac{x^2}{\cos^2(\sin t)} = e^{2t}$$

$$x^2 = e^{2t} \cos^2(\sin t)$$

$$x = e^t \cos(\sin t) \quad (\because x > 0)$$

이를 ①에 대입하면

$$y = e^t \sin(\sin t)$$

그러므로 점 P의 좌표를  $(x, y)$ 라 하면

$$x = e^t \cos(\sin t), \quad y = e^t \sin(\sin t)$$

$$\frac{dx}{dt} = e^t \cos(\sin t) - \{e^t \sin(\sin t)\} \cos t$$

$$= e^t \{\cos(\sin t) - \sin(\sin t) \times \cos t\}$$

$$\frac{dy}{dt} = e^t \sin(\sin t) + \{e^t \cos(\sin t)\} \cos t$$

$$= e^t \{\sin(\sin t) + \cos(\sin t) \times \cos t\}$$

$t = \pi$ 일 때, 점 P의 좌표는

$$(e^\pi \cos(\sin \pi), e^\pi \sin(\sin \pi)) \text{ 이므로}$$

$$P(e^\pi, 0)$$

$t = \pi$ 일 때, 곡선 C 위의 점 P에서의 접선의 기울기는

$$\frac{dy}{dx} = \frac{\frac{dy}{dt}}{\frac{dx}{dt}} = \frac{e^\pi \{\sin(\sin \pi) + \cos(\sin \pi) \times \cos \pi\}}{e^\pi \{\cos(\sin \pi) - \sin(\sin \pi) \times \cos \pi\}}$$

$$= \frac{-e^\pi}{e^\pi} = -1$$

그러므로 점 P에서의 접선의 방정식은

$$y = -(x - e^\pi)$$

이때 접선의  $x$ 절편은  $e^\pi$ ,  $y$ 절편은  $e^\pi$ 이므로 접선과  $x$ 축 및  $y$ 축으로 둘러싸인 부분의 넓이는

$$\frac{1}{2} \times e^\pi \times e^\pi = \frac{1}{2} e^{2\pi}$$

따라서  $a = \frac{1}{2}$ ,  $b = 2$ 이므로

$$10(a+b) = 10\left(\frac{1}{2} + 2\right) = 25$$

[참고]

원  $x^2 + y^2 = (e^t)^2$ 은 중심이 원점이고 반지름의 길이가  $e^t$ 인 원이고, 점 P가 원 위의 점이므로  $\overline{OP} = e^t$ 이다.

직선 OP의 기울기가  $\tan(\sin t)$ 이므로 직선 OP와  $x$ 축의 양의 방향이 이루는 각의 크기는  $\sin t$ 이다.

따라서 점 P의 좌표는

$$P(e^t \cos(\sin t), e^t \sin(\sin t))$$

이다.

